

VÝCHOZÍ TEXT A OBRÁZEK K ÚLOZE 4.2

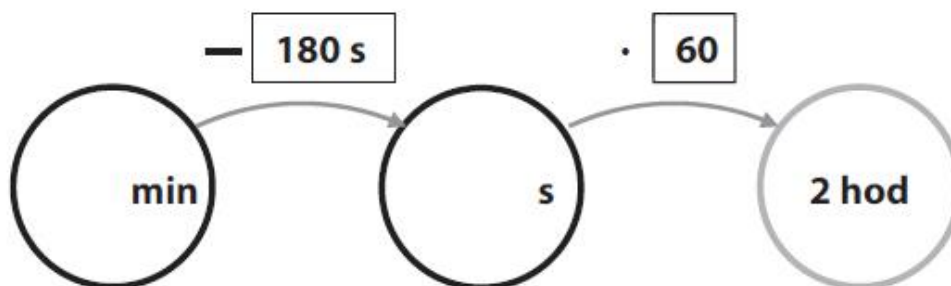
Výpočty se provádějí podle vzoru:



max. 2 body

Úloha 4.2

Doplňte do kroužků taková čísla, aby výpočty byly správné

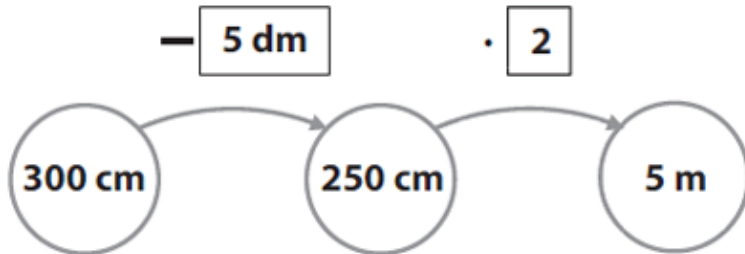


V záznamovém archu uveďte dvojici doplněných čísel i s jednotkami.

4	4.1	4.2
----------	-----	-----

VÝCHOZÍ TEXT A OBRÁZEK K ÚLOZE 4.2

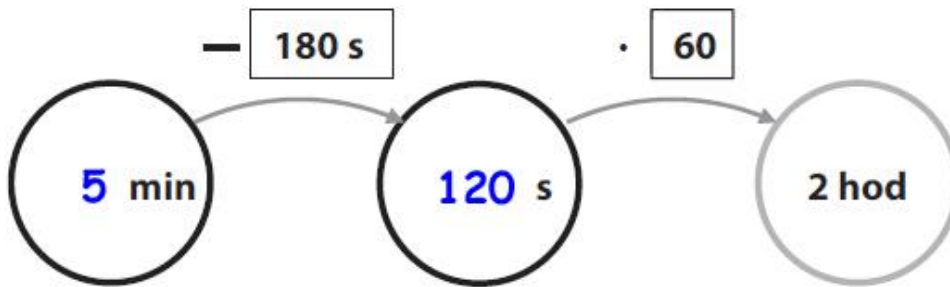
Výpočty se provádějí podle vzoru:



max. 2 body

Úloha 4.2

Doplňte do kroužků taková čísla, aby výpočty byly správné



Řešení 4.2

$$2 \text{ hod} = 720 \text{ min} = 7200 \text{ s} : 60 =$$

$$= \underline{\underline{120 \text{ s}}}$$

$$120 \text{ s} + 180 \text{ s} = 300 \text{ s} = \underline{\underline{5 \text{ min}}}$$

V záznamovém archu uveďte dvojici doplněných čísel i s jednotkami.

4	4.1	4.2
5 min ; 120 s		